

เอกสารประกอบการเรียนรู้

เพื่อทบทวนบทเรียนภาคฤดูร้อน

วิชาคณิตศาสตร์

ระดับชั้นประถมศึกษาปีที่ 3

เรื่องที่ 1 เรื่องความสัมพันธ์แบบรูปเพิ่มขึ้นและลดลงของจำนวนนับ

ให้นักเรียนศึกษาเนื้อหาการนับเพิ่มและลดในหนังสือแบบเรียนคณิตศาสตร์ป.3

ทำแบบฝึกหัด เรื่องความสัมพันธ์แบบรูปเพิ่มขึ้นและลดลงของจำนวนนับ

---

เรื่องที่ 2 เรื่องโจทย์ปัญหา

ให้นักเรียนศึกษาเนื้อหาเรื่องโจทย์ปัญหาในหนังสือแบบเรียนคณิตศาสตร์ป.3

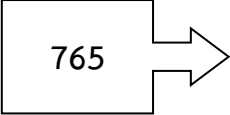
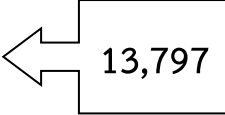
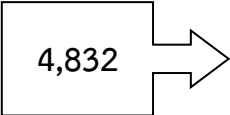
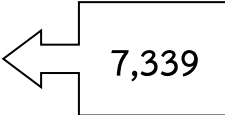
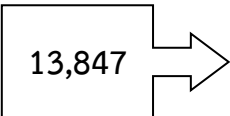
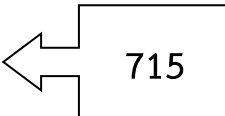
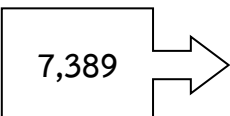
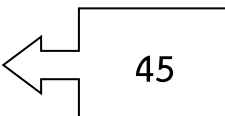
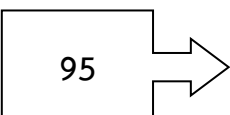
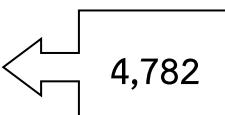
ทำแบบฝึกหัด เรื่องโจทย์ปัญหา



## แบบฝึก

เรื่อง การนับลดทีละ 50 และแบบรูปของจำนวนนับที่นับลดลงทีละ 50

### 1. โยงเส้นจับคู่จำนวนที่ลดลงทีละ 50

- 1)  
- 2)  
- 3)  
- 4)  
- 5)  

## 2. เติมจำนวนลงในช่องว่างให้ถูกต้อง

- |    |       |       |       |       |       |
|----|-------|-------|-------|-------|-------|
| 1) | 570   | 520   | ..... | ..... | 370   |
| 2) | 256   | ..... | 156   | ..... | 56    |
| 3) | 1,780 | ..... | ..... | 1530  | ..... |
| 4) | 2535  | 2485  | ..... | ..... | ..... |
| 5) | 5551  | ..... | 5451  | 5401  | ..... |

## แบบฝึก

เรื่อง แบบรูปและความสัมพันธ์ที่เพิ่มขึ้นทีละ 5 ทีละ 10 ทีละ 100

แบบฝึกที่ 9.6 ให้พิจารณาแบบรูปและความสัมพันธ์แล้วเติมตัวเลขให้ถูกต้อง

ตัวอย่าง    370                    470                    570                    670                    770

ตอบ    แบบรูปแสดงความสัมพันธ์ของจำนวนที่นับเพิ่มทีละ 100

1)    440                    540                                                           

ตอบ    .....

2)    630                    730                                                           

ตอบ    .....

3)    550                    650                                                           

ตอบ    .....

4)                                                                                   

ตอบ    .....

5)                                                                                   

ตอบ    .....

## แบบฝึก

เรื่อง แบบรูปและความสัมพันธ์ที่เพิ่มขึ้นทีละ 5 ทีละ 10 ทีละ 100

แบบฝึกที่ 9.7 ให้พิจารณาแบบรูปและความสัมพันธ์แล้วเติมตัวเลขให้ถูกต้อง

1) 0    5            20       

เป็นการนับเพิ่มทีละ \_\_\_\_\_

2) 10        30    40           

เป็นการนับเพิ่มทีละ \_\_\_\_\_

3) 50    150                550   

เป็นการนับเพิ่มทีละ \_\_\_\_\_

4) 2            17    22       


เป็นการนับเพิ่มทีละ \_\_\_\_\_

5) 18    28            58       

เป็นการนับเพิ่มทีละ \_\_\_\_\_



ให้นักเรียนดูภาพต่อไปนี้แล้วตอบคำถาม



1) จากภาพมีอะไรบ้าง

---

---

---

2) สัตว์ในภาพกำลังทำอะไร

---

---

---

3) เหตุการณ์ในภาพเกิดขึ้นที่ไหน

---

---

---

4) แต่งประโยคให้สัมพันธ์กับภาพ (มากกว่า 1 ประโยค)

---

---

---

ข้อ 1

อุดมค้าซื้อเสื้อราคา 785 บาท ซื้อรองเท้าราคา 650 บาท  
ยังเหลือเงินอีก 365 บาท เดิมอุดมค้ามีเงินกี่บาท



วิเคราะห์โจทย์โดยแยกโจทย์  
เป็นสิ่งที่โจทย์กำหนดและสิ่ง  
ที่โจทย์ต้องการทราบนะครับ

สิ่งที่โจทย์กำหนด

.....

.....

.....

สิ่งที่โจทย์ต้องการทราบ

.....



## แสดงวิธีคิด

1. ถ้าต้องการทราบว่าลุงความเคิมมีเงินกี่บาท จะต้องหาอะไรก่อน

(.....)

2. ต้องการทราบว่าลุงความซื้อเสื้อและรองเท้าเป็นเงินกี่บาท จะหาได้อย่างไร

(.....)

3. ต้องการทราบว่าเคิมลุงความมีเงินทั้งหมดที่บาท จะหาได้อย่างไร

(.....)

(.....)

## แสดงคำตอบ

1. เขียนประโยคสัญลักษณ์ได้อย่างไร

(.....)

2. เขียนแสดงคำตอบ

(.....)