



เอกสารประกอบการเรียนรู้

เพื่อทบทวนบทเรียนภาคฤดูร้อน

วิชา คณิตศาสตร์

ระดับชั้น ประถมศึกษาปีที่ 1


เรื่องที่ 1 จำนวนนับ 1 ถึง 10 และ 0

	ตัวหนังสือ	ตัวเลขฮินดูอาบิก	ตัวเลขไทย
	ศูนย์	0	๐
	หนึ่ง	1	๑
	สอง	2	๒
	สาม	3	๓
	สี่	4	๔
	ห้า	5	๕
	หก	6	๖
	เจ็ด	7	๗
	แปด	8	๘
	เก้า	9	๙
	สิบ	10	๑๐

ใบงานที่ 1

เรื่อง การนับจำนวนนับ 1 ถึง 10 และ 0

ให้นักเรียนนับจำนวนจากภาพแล้วบอกจำนวน



1. มียีราฟห้า..... ตัว
2. มีลิง ตัว
3. มีนก ตัว
4. มีเป็ด ตัว
5. มีปู ตัว
6. มีเต่า ตัว
7. มีกระรอก ตัว
8. มีช้าง ตัว
9. มีผึ้ง ตัว
10. มีกระท่าย ตัว



ใบงานที่ 2

เรื่อง การเขียนตัวเลขและตัวหนังสือแสดงจำนวนนับ 1 ถึง 10 และ 0


ให้นักเรียนเติมคำตอบที่ถูกต้อง

1. สาม3..... ๓
2. 5 ๕
3. หก ๖
4. 8
5. เจ็ด
6. สิบ 10
7. 1 ๑
8. สี่ ๔
9. 2
10.




เรื่องที่ 2 การเปรียบเทียบจำนวนนับ 1 ถึง 10 และ 0

จำนวนแครอทกับจำนวนกระต่ายมีเท่ากันหรือไม่



มีแครอท 3 หัว มีกระต่าย 3 ตัว จับคู่ได้พอดี แสดงว่า จำนวนแครอท เท่ากับ จำนวนกระต่าย
ดังนั้น 3 เท่ากับ 3

จำนวนปูกับจำนวนเป็ดมีเท่ากันหรือไม่



มีปู 4 ตัว มีเป็ด 3 ตัว จับคู่ได้ไม่พอดี แสดงว่า

จำนวนปู ไม่เท่ากับ จำนวนเป็ด

ดังนั้น 4 ไม่เท่ากับ 3

จำนวนปู มากกว่า จำนวนเป็ด

ดังนั้น 4 มากกว่า 3

จำนวนเป็ด น้อยกว่า จำนวนปู

ดังนั้น 3 น้อยกว่า 4



ใบงานที่ 3

เรื่อง การเปรียบเทียบจำนวนนับ 1 ถึง 10 และ 0

โยงเส้นจับคู่ เติมตัวเลขแสดงจำนวนและวงล้อมรอบข้อความ



มีกล้วย ลูก มีลิง ตัว

จับคู่ได้


พอดี

ไม่พอดี

จำนวนกล้วย กับ จำนวนลิง

เท่ากัน

ไม่เท่ากัน



มีหนอน ตัว มีกบ ตัว

จับคู่ได้

พอดี

ไม่พอดี

จำนวนหนอน กับ จำนวนกบ

เท่ากัน

ไม่เท่ากัน

3.



มีเต่า ตัว มีปลา ตัว

จับคู่ได้

พอดี

ไม่พอดี

จำนวนเต่า กับ จำนวนปลา

เท่ากัน

ไม่เท่ากัน

4.



มีแตงโม ชิ้น มีส้ม ผล

จับคู่ได้

พอดี

ไม่พอดี

จำนวนแตงโม กับ จำนวนส้ม

เท่ากัน

ไม่เท่ากัน

ใบงานที่ 4

เรื่อง การเปรียบเทียบจำนวนนับ 1 ถึง 10 และ 0

ให้นักเรียนเติมคำ มากกว่า น้อยกว่า หรือ เท่ากับ ในช่องว่าง

1. 7 5

2. 2 6

3. ๑ 4

4. 10 ๘

5. 6 3

6. 9 2





7. ๓ 3

8. 8 5

9. 6 ๖

10. ๔ 2

เรื่องที่ 3 การเรียงลำดับจำนวนนับ 1 ถึง 10 และ 0



มียีราฟ 5 ตัว

มีลิง 3 ตัว

มีกวาง 4 ตัว

มีสิงโต 6 ตัว

จาก 5 4 3 6

จำนวนที่มากที่สุด คือ 6 จำนวนที่น้อยที่สุด คือ 3

เปรียบเทียบจำนวนที่เหลือคือ 5 กับ 4

จะได้ 5 มากกว่า 4 หรือ 4 น้อยกว่า 5

ดังนั้น เรียงลำดับจำนวนจาก มากไปหาน้อย ดังนี้

6 5 4 3

เรียงลำดับจำนวนจาก น้อยไปหามาก ดังนี้

3 4 5 6

ใบงานที่ 5

เรื่อง การเรียงลำดับจำนวนนับ 1 ถึง 10 และ 0

เรียงลำดับจำนวนที่กำหนดต่อไปนี้

เรียงลำดับจำนวน จาก มากไปหาน้อย

1. 0 7 4 8

.....

2. 9 6 2 5

.....

3. 5 0 9 4

.....

เรียงลำดับจำนวน จาก น้อยไปหามาก

4. 6 7 4 3

.....

5. 2 0 1 6

.....