

เอกสารประกอบการเรียนรู้


เพื่อทบทวนบทเรียนภาคฤดูร้อน

วิชา สังคมศึกษา ศาสนา และวัฒนธรรม

ระดับชั้นมัธยมศึกษาปีที่ 2

วิชาสังคมศึกษา ศาสนาและวัฒนธรรม เรื่องที่ 1 สาระเรียนรู้ภูมิศาสตร์
เรื่อง มาตรการส่วน ในแผนที่

ให้นักเรียนอ่านหนังสือ สังคมศึกษา ศาสนา และวัฒนธรรม หน้า 222-230



ทำแบบฝึกหัดดังต่อไปนี้

1. แบบฝึกหัด หน้า 231 คำถามพัฒนากระบวนการคิด จำนวน 5 ข้อ
2. ใบงานที่ 1 เรื่อง มาตรการส่วน

ใบงานที่ 1 เรื่อง มาตรฐาน

คำชี้แจง : ให้นักเรียนคำนวณหาระยะทางในแผนที่จากมาตรฐานที่กำหนดให้

● ตัวอย่าง

มาตรฐาน = $\frac{\text{ระยะทางในแผนที่}}{\text{ระยะทางจริงบนพื้นผิวโลก}}$

ระยะทางจริงบนพื้นผิวโลก

มาตรฐานที่กำหนดให้ ๑ : ๑๐๐,๐๐๐

(ระยะทางในแผนที่ ๑ เซนติเมตร เท่ากับระยะทางในพื้นที่จริง ๑๐๐,๐๐๐ เซนติเมตร)

ระยะทางในแผนที่ ๓ เซนติเมตร เท่ากับระยะทางในพื้นที่จริง ๑๐๐,๐๐๐ x ๓ เซนติเมตร

ระยะทางจริง = ๓๐๐,๐๐๐ เซนติเมตร = ๓ กิโลเมตร

๑. หาระยะทางในแผนที่ ๘ เซนติเมตร จากแผนที่มาตรฐาน ๑ : ๕๐,๐๐๐

๒. หาระยะทางในแผนที่ ๕ เซนติเมตร จากแผนที่มาตรฐาน ๑ : ๒๐,๐๐๐,๐๐๐

๓. หาระยะทางในแผนที่ ๑๒ เซนติเมตร จากแผนที่มาตรฐาน ๑ : ๒๘,๐๐๐,๐๐๐


๔. หาระยะทางในแผนที่ ๗ เซนติเมตร จากแผนที่มาตรฐาน ๑ : ๔๐,๐๐๐,๐๐๐

๕. หาขนาดของสี่เหลี่ยมในแผนที่ ๒ x ๓ เซนติเมตร จากแผนที่มาตรฐาน ๑ : ๒๕,๐๐๐

เรื่องที่ 2

เรื่อง ทิศ และสัญลักษณ์ในแผนที่

ให้นักเรียนอ่านหนังสือ สังคมศึกษา ศาสนา และวัฒนธรรม หน้า 222-230





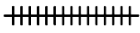
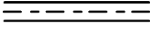








ทำแบบฝึกหัดดังต่อไปนี้

1. ใบงานที่ 2.1 เรื่อง สัญลักษณ์ในแผนที่
2. ใบงานที่ 2.2 เรื่อง สีในแผนที่

ชื่อ.....นามสกุล.....เลขที่.....ชั้น.....

คำชี้แจง : ให้นักเรียนโยงเส้นแสดงความหมายของสัญลักษณ์ในแผนที่ให้ถูกต้อง

สัญลักษณ์

- 
- 
- 
- 
- 
- 
- 
- 
- 
- 
- 
- 

ความหมาย

- ๑ ทางรถไฟ
- ๒ พรมแดนระหว่างประเทศ
- ๓ ที่ตั้งจังหวัด
- ๔ สนามบิน
- ๕ โรงเรียน
- ๖ บ้านเรือน
- ๗ แม่น้ำ
- ๘ ที่จอดเรือ
- ๙ ต้นไม้
- ๑๐ ทู่งนา
- ๑๑ โบสถ์คริสต์ศาสนา
- ๑๒ ปรากฏการณ์

ใบงานที่ 2.2 ให้นักเรียนค้นหาข้อมูลในอินเทอร์เน็ตจากนั้นเขียนอธิบายความหมายของสี
ที่เป็นสัญลักษณ์ในแผนที่ตามที่กำหนดให้

สีที่เป็นสัญลักษณ์	ความหมาย
